

ജില്ലയുടെ പേര് - തൃശ്ശൂർ
ബി.ആർ.സി.യുടെ പേര് - മതിലകം

സ്റ്റാൻഡേർഡ് -6
വിഷയം -social science
യൂണിറ്റ് -4
പാഠം-
ഉൽപ്പാദനപ്രക്രിയയിലൂടെ
വർക്ക് ഷീറ്റ് നമ്പർ

വൈറ്റ് ബോർഡ് ഷീറ്റ്

ആരംഭം/തുടർച്ച/അവസാനം

TALKING TEXT-1

താഴെ തന്നിരിക്കുന്ന സേവകരെ ചിത്രത്തിന്റെ അടിസ്ഥാനത്തിൽ തിരിച്ചറിയുക.

ടീച്ചർ




പോലീസ്



ഡോക്ടർ





ജില്ലയുടെ പേര് - തൃശ്ശൂർ
ബി.ആർ.സി.യുടെ പേര് - മതിലകം

സ്റ്റാൻഡേർഡ് -6
വിഷയം - social science
യൂണിറ്റ് -4
പാഠം -
ഉൽപ്പാദനപ്രക്രിയയിലൂടെ
വർക്ക് ഷീറ്റ് നമ്പർ

വൈറ്റ് ബോർഡ് ഷീറ്റ്

ആരംഭം/തുടർച്ച/അവസാനം

TALKING TEXT -2

നെല്ലുൽപ്പാദനത്തിന്റെ വിവിധ ഘട്ടങ്ങൾ ചിത്രത്തിന്റെ സഹായത്തോടെ ക്രമപ്പെടുത്തുക.



നിലമൊരുക്കൽ



നെല്ല് ശേഖരണം



വളം വിതരണം



കുറ്റ മെതിക്കൽ




കള പഠിക്കൽ



കൊയ്ത്ത്



ഞാനു നടീൽ



ജില്ലയുടെ പേര് - തൃശ്ശൂർ
ബി.ആർ.സി.യുടെ പേര് - മതിലകം

സ്റ്റാൻഡേർഡ് -6
വിഷയം - social science
യൂണിറ്റ് -4
പാഠം -
ഉൽപ്പാദന പ്രക്രിയയിലൂടെ
വർക്ക് ഷീറ്റ് നമ്പർ

വൈറ്റ് ബോർഡ് ഷീറ്റ്

ആരംഭം/തുടർച്ച/അവസാനം

TALKING TEXT-2

2. ചേരുമ്പടി ചേർക്കുക.

A

B

ഉൽപ്പാദനം


ഭൂമി

സംഘാടനം

ഉൽപ്പന്നം

ഉൽപ്പാദന ഘടകം

സംഘാടകൻ



ജില്ലയുടെ പേര് - തൃശ്ശൂർ
ബി.ആർ.സി.യുടെ പേര് - മതിലകം

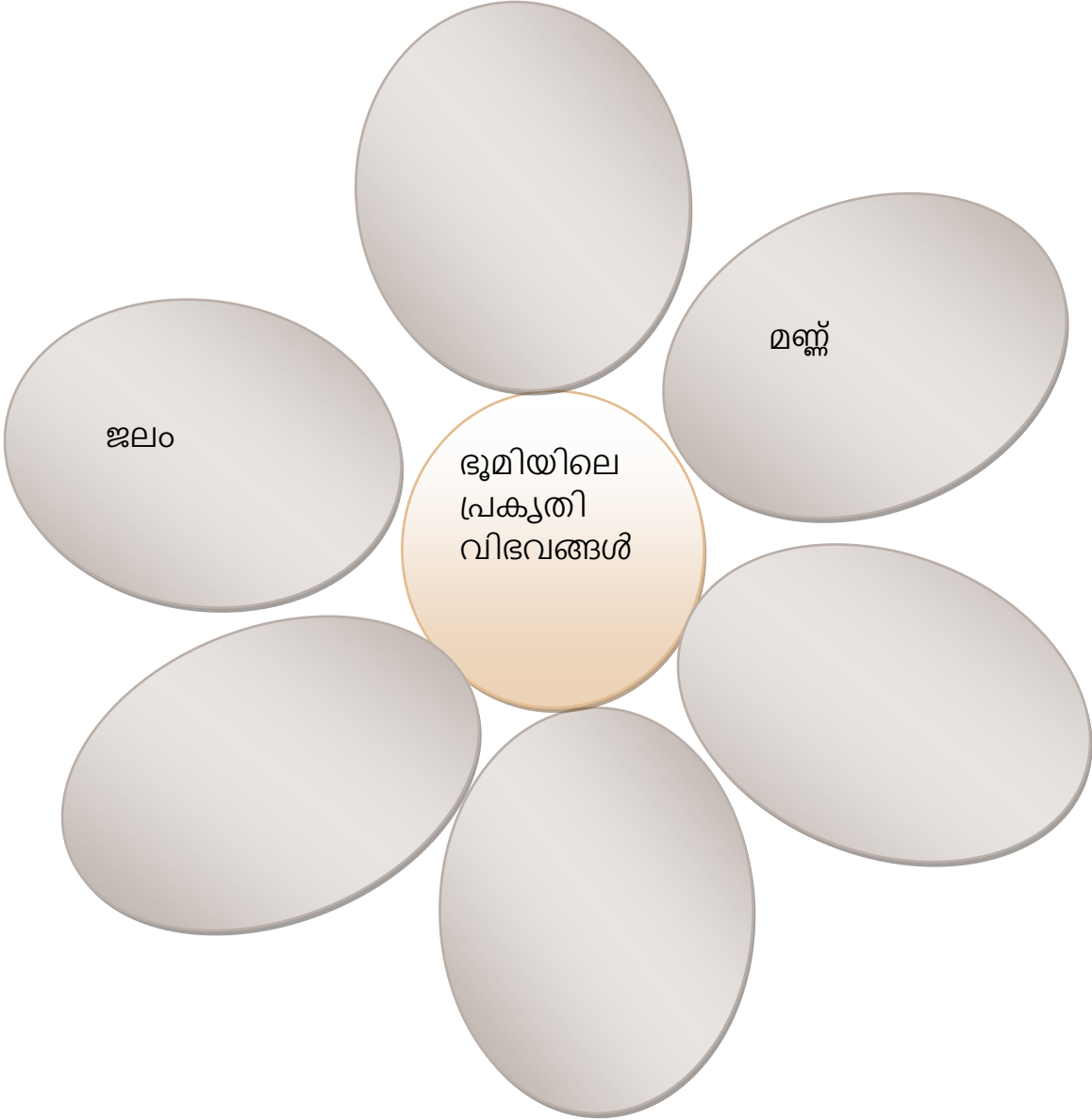
സ്റ്റാൻഡേർഡ് -6
വിഷയം - social science
യൂണിറ്റ് -4
പാഠം -
ഉൽപ്പാദനപ്രക്രിയയിലൂടെ
വർക്ക് ഷീറ്റ് നമ്പർ


വൈറ്റ് ബോർഡ് ഷീറ്റ്

ആരംഭം/തുടർച്ച/അവസാനം

TALKING TEXT-3

പാഠഭാഗം വായിച്ച് ചിത്രത്തിലെ ഇതരങ്ങൾ പൂർത്തിയാക്കുക.





ജില്ലയുടെ പേര് - തൃശ്ശൂർ
ബി.ആർ.സി.യുടെ പേര് - മതിലകം

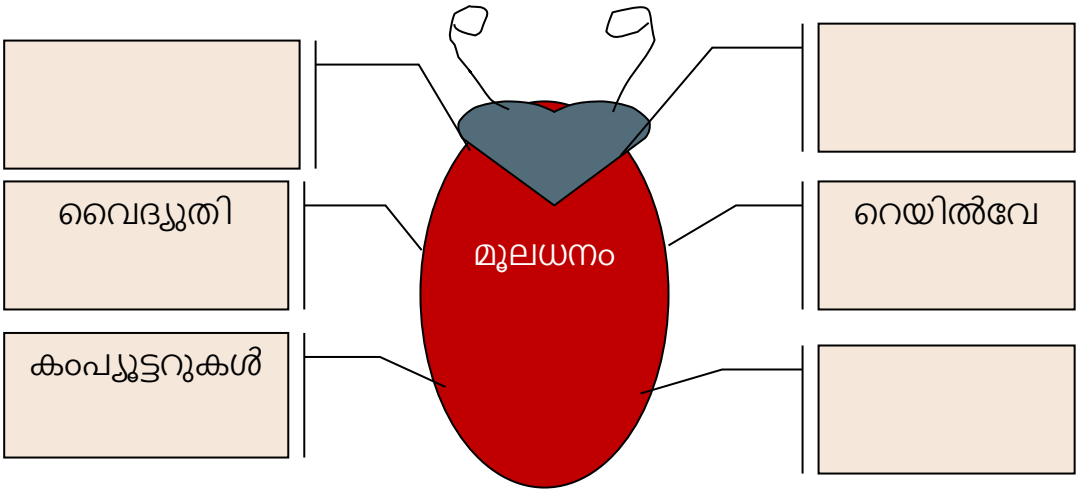
സ്റ്റാൻഡേർഡ് -6
വിഷയം - social science
യൂണിറ്റ് -4
പാഠം -
ഉൽപ്പാദനപ്രക്രിയയിലൂടെ
വർക്ക് ഷീറ്റ് നമ്പർ


വൈറ്റ് ബോർഡ് ഷീറ്റ്

ആരംഭം/തുടർച്ച/അവസാനം

TALKING TEXT-4

ചിത്രം പൂർത്തിയാക്കുക.





ജില്ലയുടെ പേര് - തൃശ്ശൂർ
ബി.ആർ.സി.യുടെ പേര് - മതിലകം


സ്റ്റാൻഡേർഡ് -6
വിഷയം -social science
യൂണിറ്റ് -4
പാഠം-
ഉൽപ്പാദനപ്രക്രിയയിലൂടെ
വർക്ക് ഷീറ്റ് നമ്പർ


വൈറ്റ് ബോർഡ് ഷീറ്റ്

ആരംഭം/തുടർച്ച/അവസാനം

TALKING TEXT-4

ചിത്രം പൂർത്തിയാക്കുക





ജില്ലയുടെ പേര് - തൃശ്ശൂർ
ബി.ആർ.സി.യുടെ പേര് - മതിലകം

സ്റ്റാൻഡേർഡ് -6
വിഷയം - social science
യൂണിറ്റ് -4
പാഠം -
ഉൽപ്പാദന പ്രക്രിയയിലൂടെ
വർക്ക് ഷീറ്റ് നമ്പർ

വൈറ്റ് ബോർഡ് ഷീറ്റ്

ആരംഭം/തുടർച്ച/അവസാനം

TALKING TEXT-5

ചിത്രത്തിന്റെ സഹായത്തോടെ താഴെ കാണുന്ന ചോദ്യങ്ങൾക്ക് ഉത്തരം കണ്ടെത്തൂ.



1. സാധനങ്ങളുടെയും സേവനങ്ങളും ഉൽപ്പാദന യൂണിറ്റിൽ നിന്നും സ്വീകരിക്കുന്നത് ആര്?
2. ഉൽപ്പാദന പ്രക്രിയ നടത്തുന്ന യൂണിറ്റ് ഏത്?